


Observa atentamente os documentos 1 e 2




Doc.2 Boston Tea Party

**Doc.1 Colónias Inglesas**


1. Indica o nome do continente onde se localizavam as treze colónias inglesas, representadas no documento 1.
- 1.1. Refere dois fatores de união entre elas.
- 1.2. Identifica a colónia inglesa na qual, em 1773, ocorreu o episódio retratado no documento 2.

**2. Observa os documentos 3 e 4**

Doc.3 George Washington



Doc.4 Thomas Jefferson



**2.1 Associa as figuras apresentadas nos doc,3 e 4 com as afirmações indicadas em A, B e C.**

**1. George Washington**

**A** Guerra da Independência

**2. Thomas Jefferson**

**B** Declaração da Independência dos E.U.A

**C.** Constituição Americana

### 3. Lê o documento 1

Excerto da **Declaração Universal dos Direitos do Homem e do Cidadão**

**ART. 1.º** Os Homens nascem e permanecem livres e iguais em direitos.

**ART. 3.º** O princípio de toda a soberania reside, essencialmente, na Nação. Nenhuma entidade ou indivíduo pode exercer autoridade que dela não emane expressamente.

**ART. 11.º** A livre comunicação das ideias e das opiniões é um dos mais preciosos direitos do Homem.

Declaração dos Direitos do Homem do Cidadão (1789)

3.1. **Identifica** no documento 1, dois princípios liberais.

3.2. **Ordena** os seguintes acontecimentos:

A – Revolução liberal Portuguesa

B – 1ª Invasão Francesa.

C – Declaração da Independência dos E.U.A.

D – Execução de Luís XV.I

E – Boston Tea Party.

4. Lê atentamente o documento um.

Doc.1 “No dia 1 de janeiro de 1900, o Mundo apresentou – se aos olhos dos grandes homens da Europa como um lugar razoavelmente bem governado. O continente mantinha – se em paz havia três décadas, e preparava – se para assim continuar, graças a um aumento da prosperidade e a uma complexa rede de alianças entre as principais potências. Além disso, a Europa continuava, incontestavelmente, a dominar o Mundo.

Os Grandes Acontecimentos do Século XX, p.10

4. 1. **Identifica** duas potencias europeias a que o doc.1 se refere.

4.2 **Refere** o nome do continente que no período antes da guerra, era o mais poderoso.

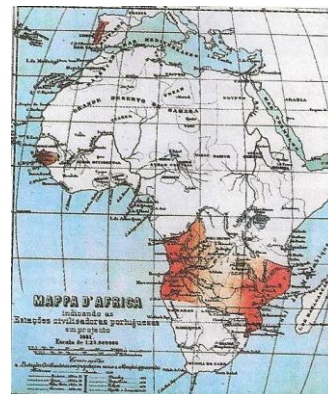
5. **Observa** o doc.2, doc.3 e o mapa 1:



Doc.2 Conferência de Berlim



doc.3 Cecil Rhodes




Mapa 1



5. 1 Tendo presente os documentos 2, 3 e o mapa 1, **explica**:

- a) Uma decisão da conferência de Berlim.
- b) O que representa o mapa1?
- c) Qual o significado da imagem do doc.3.

6. **Observa o documento.4**



6.1 **Explica** o significado político da gravura do doc.4.

6.2 **Identifica** o nome das alianças e respetivos países que as integraram no período que antecede a guerra.

6.3 **Refere** o nome dos dois tipos de guerra que caracterizaram 1ª Guerra Mundial.

6.4 **Carateriza** um desses tipos de guerra.

7. **Lê o documento 1:**

**Doc. 5** Art. 42.º — É proibido à Alemanha construir fortificações [...] ao longo de uma linha situada até 50 km do Reno.

Art. 51.º — Os territórios da Alsácia-Lorena [...] são reintegrados na soberania francesa.

Art. 119.º — A Alemanha renuncia [...] a todos os seus direitos e títulos sobre as possessões ultramarinas [...].

Art. 231.º — Os governos aliados declaram, e a Alemanha reconhece, que ela e os seus aliados são responsáveis por todas as perdas e danos sofridos em consequência da guerra que lhes foi imposta pela opressão alemã.

Tratado de Versalhes, 1919

7.1 **Indica** a data (mês e ano) **do Armistício** da 1ª Guerra Mundial.

7.2 **Refere** o nome do tratado a que se refere o doc.1.

7.3 **Menciona** duas medidas impostas à Alemanha, presentes no doc.1.

**BOM TRABALHO**

**Adaptado: Manuais Porto Editora/Areal Editores**