

1. Lê atentamente as fontes A e B. **Fonte A**

Fonte B

A situação económica da Alemanha é, em breves traços, a seguinte: estamos superpovoados e não temos meios próprios capazes de alimentar toda a população. Além disso, também nos faltam algumas matérias-primas fundamentais ao crescimento da indústria alemã.

A solução reside no alargamento do “espaço vital”, pelo que é necessário termos o exército preparado para a luta e a economia capaz de suportar a guerra. Temos de continuar a eterna marcha dos Germanos para sul e ocidente da Europa.

Hitler, Plano dos 4 anos, agosto, 1936

A.

Povo alemão, o vosso país e o meu estão em guerra. O vosso governo invadiu o Estado livre e independente da Polónia. Podeis-vos interrogar em que é que isso interessa à Inglaterra. Isso diz-nos respeito, porque demos a nossa palavra de honra de defender a Polónia em caso de agressão. Ninguém confia mais na palavra do vosso chefe.

Ele disse que não desejava anexar a Áustria: ele violou o compromisso. Ele declarou que não incorporaria os checos no Reich: ele fê-lo. Ele deu a sua palavra, após a conferência de Munique (setembro de 1938), de não ter mais exigências territoriais a fazer na Europa: ele violou-a.

Discurso de Neville Chamberlain, Primeiro-Ministro inglês, 4 de setembro de 1939

1. **Indica**, com base na **fonte A**, **duas soluções** apontadas por Hitler para a situação alemã. **6%**

2. **Refere**, com base na **fonte B**, **duas razões** para a Inglaterra declarar guerra à Alemanha. **6%**

2. **Observa** a fonte C.



- A Europa Alemã**
- O Grande Reich e as suas anexações
 - Territórios ocupados pela Alemanha
 - Estados aliados da Alemanha ou que colaboravam com esta
 - Muro do Atlântico
- A resistência ao domínio alemão**
- Estados e territórios em guerra contra a Alemanha e seus aliados
 - Estados neutrais
 - Polo de resistência

A Europa durante a 2.ª Guerra Mundial

2.1. **Menciona**, com base na **fonte C**, **dois países** que entraram em confronto com a Alemanha e seus aliados, durante a 2.ª Guerra Mundial. **4%**

2.2. **Identifica**, com base na **fonte C**, **dois territórios ocupados pela Alemanha** e **dois dos seus aliados** na Europa. **6%**

3.1. **Assinala** as frases que se relacionam com o Plano Marshall. **4%**

- a) A partir de 1947, os EUA vão apoiar a reconstrução da economia dos países europeus.
- b) O COMECON apoia financeiramente os países da Europa de Leste.
- c) A OECE foi uma organização criada para administrar os fundos disponíveis.
- d) O apoio económico dado pelos EUA reforça e reafirma a sua posição de superpotência.

3.2. Completa a frase com as palavras sublinhadas : Económica -Comecon- Leste -1949 4%

a) A URSS criou, em _____, em resposta ao Plano Marshall, o _____, o Conselho de Ajuda _____ mútua, que apoiava os países da Europa de _____.

4. Selecciona as afirmações verdadeiras com um V e as falsas com um F. **7%**

- a) O pacto de Varsovia surge como resposta à NATO.
- b) A NATO e o Pacto de Varsóvia são organizações de carácter económico.
- c) A Guerra Fria é a designação atribuída a um período de tensão político-militar entre os EUA e a U.R.S.S.
- d) Entre 1948 e 1949, Estaline decreta o Bloqueio de Berlim.
- e) A Guerra da Coreia (1950-1953) termina com a unificação da Coreia, com o apoio dos EUA.
- f) A crise dos mísseis de Cuba aumenta o clima de tensão entre os EUA e a URSS.
- g) A Guerra do Vietname (1955-1975) opôs o norte comunista ao sul pró-americano.

5. Analisa as fontes.

Fonte A - O Plano Marshall

Fonte B - O COMECON

O Congresso declara que a política dos Estados Unidos consiste em encorajar os países da Europa, graças a uma organização comum, a desenvolver esforços conjuntos a fim de realizar a cooperação económica da Europa, que é essencial para assegurar uma paz e prosperidade estáveis [...] prestando auxílio aos países que participam num programa comum de reconstrução.

Aprovação, pelo Congresso dos EUA, do Plano Marshall, 1948

Art. 3.º – O Conselho de Ajuda Económica Mútua [...]:

– Organiza a cooperação económica e científico-técnica multilateral dos países membros do Conselho, no sentido de aproveitar, da forma mais racional, os seus recursos naturais e acelerar o desenvolvimento das forças produtivas.

– Contribui para o aperfeiçoamento da divisão socialista do trabalho, mediante a coordenação dos planos de desenvolvimento da economia nacional, especialização e cooperação produtiva dos países membros do Conselho.


Estatutos do Conselho de Assistência Económica Mútua (COMECON), 1949

Fonte C – O mundo em 1960



- Bloco ocidental**
- Aliança Atlântica-OTAN (ou NATO)
- Estados aliados do bloco ocidental por outros acordos
- Impérios coloniais das potências ocidentais
- Principais bases norte-americanas
- Bloco de leste**
- Pacto de Varsóvia
- Estados aliados da URSS por outros acordos
- Principais bases soviéticas

Fonte D – A crise de Mísseis



Fonte D - Cartoon representando Castro a ameaçar os EUA com mísseis nucleares, sob o olhar do russo Khrushchev

5.1 Assinala, com um X, a opção correta.

a) No pós-guerra, os EUA prestaram auxílio económico à: **3%**

URSS. Europa. Ásia.

- b) Com a nova ordem mundial, saída da 2.ª Guerra emergem duas zonas de influência: **3%**
 os EUA e a URSS. a Alemanha e o Japão. os EUA e o Japão.

5.2. Identifica dois objetivos do Congresso dos EUA ao aprovarem o Plano Marshall (fonte A). 6%

5.3 Indica uma proposta do COMECON? (fonte B) 3%

5.4 A partir da análise da fonte C, indica o nome das duas alianças militares que se criaram com a política de blocos. 4%

5.5 Tendo em conta as fontes A a D, entende-se por Guerra Fria: Indica a frase correta 5%

A- O período de tensão político-militar entre os EUA e a URSS, após a 1.ª Guerra Mundial. A corrida ao armamento, nomeadamente ao nuclear, e o apoio a conflitos localizados, por ambos os países, criando um clima de tensão, de medo e de confronto ideológico, entre as duas zonas de influência.

B- O período de tensão político-militar entre os EUA e a China, após a 2.ª Guerra Mundial. A corrida ao armamento, nomeadamente ao nuclear, e o apoio a conflitos localizados, por ambos os países, criando um clima de tensão, de medo e de confronto ideológico, entre as duas zonas de influência.

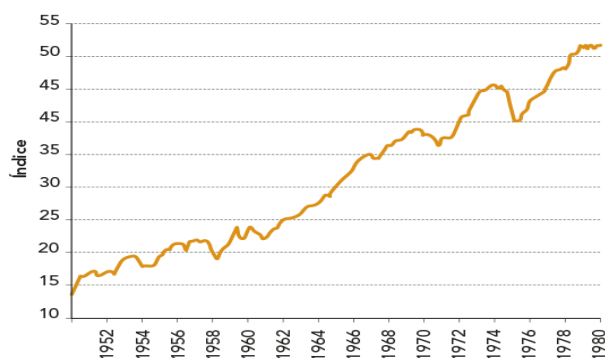
C- O período de tensão político-militar entre os EUA e a URSS, após a 2.ª Guerra Mundial. A corrida ao armamento, nomeadamente ao nuclear, e o apoio a conflitos localizados, por ambos os países, criando um clima de tensão, de medo e de confronto ideológico, entre as duas zonas de influência.

6. Assinala com um V as afirmações verdadeiras e com um F as falsas. 6%

- A 2.ª Guerra Mundial contribuiu para o fortalecimento das ideias colonialistas.
 A posição da ONU reforçou a defesa do direito de autodeterminação dos povos.
 Na Indochina, colónia inglesa, Gandhi liderou um movimento de resistência pacífica.
 A Indochina, colónia francesa, libertou-se após uma guerra de guerrilha.
 Um dos objetivos do Movimento dos Países Não Alinhados foi a defesa do colonialismo.
 O neocolonialismo assenta em novas formas de controlo económico exercidas pelos países ricos.

7. Atenta nas fontes

Fonte A A produção industrial nos EUA



Fonte B O desenvolvimento tecnológico



Fonte B -Técnicas operam o ENIAC (Electronic Numerical Integrator and Computer) o primeiro computador, criado em 1946.

7.1 Apresenta dois fatores que contribuíram para a hegemonia económica e tecnológica dos EUA. 4%

7.2 Escolhe o conceito certo indicado na caixa a que se refere cada uma das definições.

Sociedade de consumo	Sociedade de abundância	Sociedade de riqueza
----------------------	-------------------------	----------------------

- a) Hábito de adquirir bens e serviços em número superior ao que é realmente necessário **3%**

b) O consumo é estimulado pela publicidade e marketing, criando a necessidade de compra de produtos, incluindo muitos desnecessários. _____ 3%__

8. Completa os espaços em branco no texto, utilizando os dados certos da caixa de texto: 10%

Jovem/envelhecida/contestação/aceitação/maio 65/maio 68/guerra/paz/ Nelson Mndela / Alvaro Cunhal /Martin Luther King/Barac Obama/Apartheid/Racismo/Guerra Fria/Guerra do Irão/Hippie/Pop/ violência

Após a 2.^a Guerra Mundial, o crescimento da taxa de natalidade provocou o aumento da população _____. Esta geração cresceu num período de desenvolvimento económico, numa sociedade de abundância, mas revelou-se muito atenta às questões sociais e aos problemas do seu tempo. Os jovens lideraram movimentos de _____ social, política e ideológica. É o caso do movimento _____ que se manifestou contra a _____ e defendeu o contacto com a natureza e as ideias de igualdade e _____. Nas décadas de 1960 e 1970, insurgiram-se contra a guerra no Vietname, contra a ameaça nuclear e contra o clima de insegurança da _____.

Na Europa, um dos movimentos de contestação mais conhecido foi o _____, uma revolta estudantil em Paris.

Na luta pela igualdade entre todos os seres humanos e contra a segregação racial destacou-se o movimento liderado por _____ nos EUA. Na África do Sul, o ativista _____ lutou contra o _____, nome dado ao regime que separava brancos e “não brancos”.

9. Lê o documento 1 e observa, com atenção, o Mapa A.

Documento 1

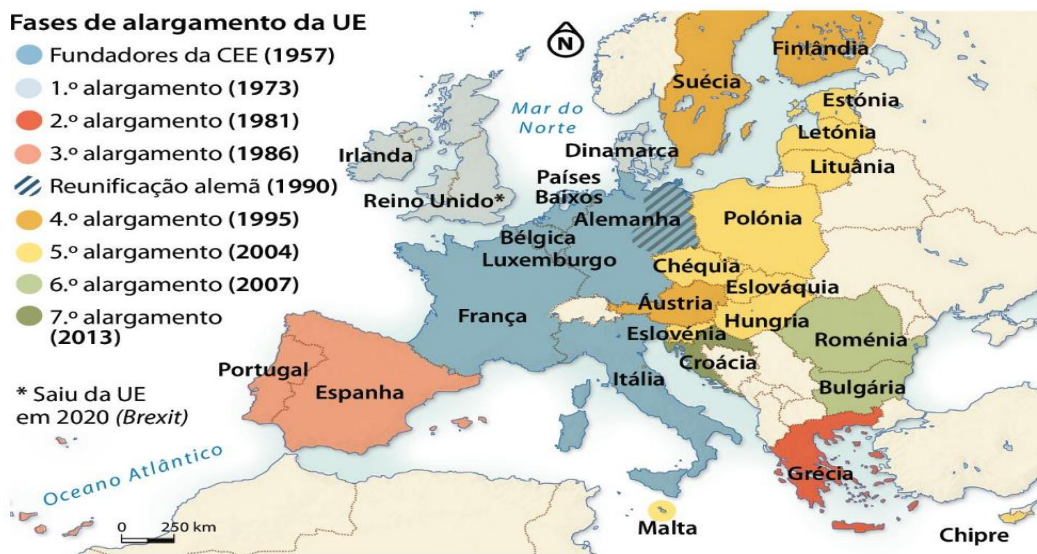
A Comunidade tem por missão entre os seus Estados-membros: [...]

Art.º 2.º Promover um desenvolvimento das atividades económicas. [...]

Art.º 123.º A criação de um Fundo Social Europeu, com vista a melhorar as possibilidades de emprego. [...]

Tratado de Roma, março de 1957

Mapa A – A UE



10. Menciona dois objetivos da Comunidade Económica Europeia, com base no doc.1 (CEE). **6%**

11. Observa o mapa A e Completa: Atualmente, integram a UE países. **3%**

BOM TRABALHO
