

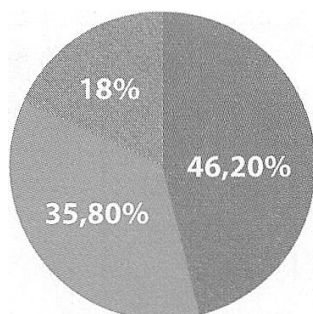
Nome _____ Nº _____ Classificação _____

Versão C

1. Observa o documento 1 e lê o documento 2

Doc. 1 – Produção industrial em 1900

Doc. 2 A hegemonia europeia



Legenda – 46,20% - Europa
35,80% - EUA
18% - Resto do mundo

Existem alguns países que se tomaram os banqueiros do mundo e o governam como entendem: a Grã-Bretanha, a França, a Alemanha, a Holanda, a Bélgica. [...] São, por excelência, as nações mais ricas da Terra, possuidoras, desde há muito, de uma sólida situação económica. Ao iado destas potências, começaram a crescer países mais jovens, que poderíamos designar por "novos-ricos" como, por exemplo, os Estados Unidos da América.

Revista Dois Mundos (1896)

1. Assinala, com X, fatores que justificam a supremacia europeia nos finais do séc. XIX. 6%

- a) Fraca industrialização. _____
- b) Vasto império colonial. _____
- c) Domínio de extensas áreas de mercados. _____
- d) Incapacidade da sua frota comercial. _____
- e) Elevado investimento de capitais em atividades lucrativas em todo o mundo. _____

1.1 Indica o nome de duas novas potências industrializadas, fora do continente europeu. 5%

R _____

2. Lê, com atenção, o documento 3.

Documento 3 - Ata geral da Conferência de Berlim (1884-1885)

[...] Art.º 35.º As potências signatárias da presente Ata reconhecem a obrigação de assegurar, nos territórios por elas ocupados nas costas do continente africano, a existência de uma autoridade suficiente para fazer respeitar os direitos e, se for caso disso, a liberdade do comércio e do trânsito nas condições em que ela for estipulada.

De Leclerq, "Coleção dos Tratados de França", in Gustavo de Freitas, 900 textos e documentos de História, Vol. III. Lisboa: Plátano Editora, 1976

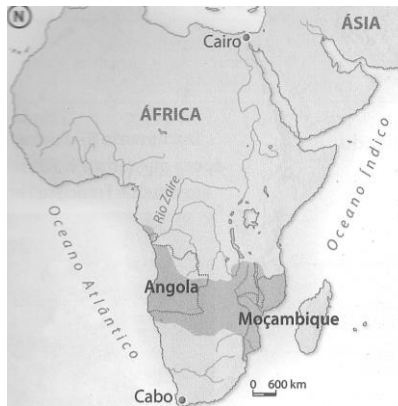
2.1. Assinala com X, a principal decisão da Conferência de Berlim. (só uma está certa) 4%

- a) A definição do princípio da ocupação efetiva dos territórios coloniais. _____
- b) A definição do princípio histórico da descoberta dos territórios coloniais. _____

c) A entrega dos territórios coloniais à Alemanha _____

3. Atenta nos seguintes documentos 4 e 5

Doc.4 – Mapa cor-de-rosa



doc.5 “Do Cabo ao Cairo”

(publicação na revista Puck, em dezembro de 1902)

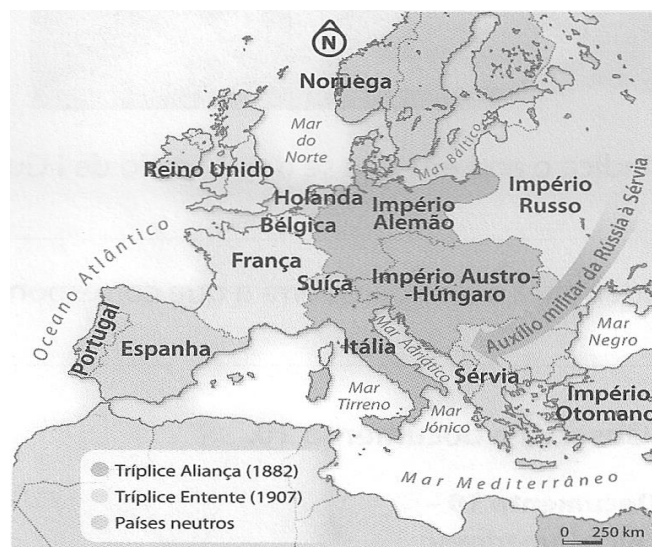



3.1. Completa o seguinte texto com as palavras certas, presentes no seguinte quadro:6%

ultimato, mapa cor-de-rosa, corredor, Cairo, Cabo, Moçambique, Guiné, Cabo verde, estreito, porto

De acordo com o _____ Portugal pretendia ocupar a área territorial que unia Angola a _____. Contudo, este objetivo colidia com as pretensões britânicas, uma vez que a Inglaterra desejava unir, através de um _____, o _____ (Norte de Africa) ao _____ (Africa do Sul). Em consequência, os ingleses apresentaram um _____, que exigia, sob a ameaça militar e diplomática, a retirada dos portugueses dos territórios disputados.

4. Analisa, com atenção, os documentos 6 e 7



4.1. Completa a seguinte afirmação, com as frases certas, presentes no quadro abaixo indicado: 6%

Inglaterra, Espanha, Alemanha, colónias, prata, matérias-primas, mercados, países, especiarias.


A _____ era a principal rival económica do Reino Unido. Entre os dois países existia uma competição pela posse de melhores _____ e de áreas ricas em _____.

4.2. Escolhe do quadro indicado, os países que formaram as alianças: 5% +5%

Imperio Austro Húngaro, Itália, Rússia, Alemanha, França, Inglaterra, Holanda, Bélgica, Portugal , Espanha

- a) A tríplice Aliança: _____
b) A tríplice Entente: _____

Doc. 8 .



Doc.9 A 1ª Guerra Mundial

4.3. O acontecimento retratado na imagem e que desencadeou o início da 1ª Guerra Mundial, refere -se a: Assinala a opção correta 6%

- A – Assassinato do Herdeiro do Imperio Russo.
B - Assassinato do Herdeiro do Imperio Austro Húngaro.
C- Assassinato do Herdeiro do Imperio Alemão.

4.4. Indica o ano em que se deu início e terminou a I Guerra Mundial. 5%

Escolhe a opção correta:

A -1914-1919

B-1914-1918

C- 1914-1929

4.5. Identifica a fase da guerra a que corresponde o doc.9. Escolhe a opção certa 5%

A – Guerra de movimentos **B – Guerra de Trincheiras** C – Guerra de Posições

4.6. Explica o que foi o Armistício. Escolhe a opção certa: 6%

A -Marca o fim da 2ª Guerra Mundial **B - Marca o fim da 1ª Guerra Mundial**

C- Marca a entrada dos E.U.A na Guerra **D - Marca a entrada de Portugal na Guerra**

5. Analisa, com atenção, os documentos 9 e 10.

Doc. 9 A Europa após a I Guerra

Doc. 10 – Os efeitos da Guerra



Países	Mortos, feridos ou desaparecidos	Custos (em milhares de milhões de dólares)
Aliados	22062487	125,7
Potencias Centrais	15404477	60,6

5.1. Preenche o quadro com as informações disponibilizadas às respetivas colunas da tabela em baixo. 18%

Pagamento de pesadas indemnizações de guerra aos países vencedores por parte da Alemanha.

Elevado número de mortos, feridos e inválidos

Aumento da fome e do desemprego


Queda e desintegração de impérios e surgimento de novos Estados, como a Checoslováquia e a Finlândia

Destruição de estruturas produtivas e infraestruturas

I GUERRA MUNDIAL		
Consequências sociais e demográficas	Uma decisão saída do Tratado de Versalhes	Duas alterações ao mapa político da Europa

6. Lê atentamente o documento 11

Doc.11

	<p>Art.º10.º Os membros da Sociedade comprometem-se a respeitar e a defender, contra toda e qualquer agressão exterior, a integridade territorial e a independência política de todos os países membros [...].</p>
<p>Pacto aprovado na Conferência de Versalhes (1919)</p>	

6.1. Rodeia com um círculo, a organização criada no primeiro pós-guerra com vista a garantir a paz mundial **5%**

- A- Tríplice Aliança B- SDN C- Tríplice Entente D- ONU**

6.2 Indica, com base no doc.11, dois objetivos da SDN. 6%

R _____

7. Observa o documento 12 - *caricatura do pós-guerra*, que mostra o Tio Sam a olhar para a destruição na Europa.


Doc.12



Doc.13 -A indústria automóvel



Linha de montagem



Ford – o modelo revolucionário da produção automóvel

**7.1 Assinala, com X, os fatores que explicam o crescimento dos EUA após a I Guerra Mundial.
12%**

1. Território afetado pelo conflito. _____
2. Adoção do protecionismo europeu. _____
3. Aumento das exportações para a Europa. _____
4. Aplicação de novos métodos de organização e racionalização do trabalho (taylorismo/fordismo). _____
5. Surgimento de monopólios de grandes empresas. _____
6. Aumento dos custos de produção e aumento dos preços dos produtos. _____
7. Solo fértil, rico em recursos naturais, como o petróleo e o carvão. _____

BOM TRABALHO