

Lê atentamente todos os documentos e responde de forma cuidada com frases completas.

Doc. 1 Entre todas as realizações, as mais numerosas, as mais surpreendentes, as mais fecundas couberam a uma parte bastante restrita da Humanidade e a um território bem pequeno relativamente ao conjunto das terras habitáveis. A Europa foi esse lugar privilegiado; o Europeu, o espírito europeu, o autor desses prodígios.

[...] De súbito, a diferença de saber científico e de poder, entre a Europa e o resto do Planeta, torna-se tão grande que arrasta uma ruptura do equilíbrio. A Europa precipita-se para fora de si própria, parte à conquista do Mundo.

PAUL VALÉRY, *Variétés*, 1924

1. **Identifique o nome do continente** que no início do séc. XX, de acordo com Paul Valéry, é um dos mais poderosos.

1.1 **Indique com base nos seus conhecimentos, duas razões que explicam o poderio desse continente.**

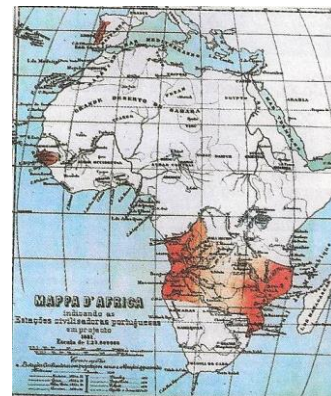
2. **Observe o doc.2, doc.3 e o mapa 1:**



Doc.2 Conferência de Berlim



doc.3 Cecil Rhodes



Mapa 1

2. 1. **Refira um motivo/uma Razão** que levou à realização da Conferência de Berlim.

2.2. **Identifique o nome de três potências europeias** com ocupação efetiva em África.

2.3. **Dê um título ao Mapa 1.**

2.4. **Indique o nome do país que nos lançou o Ultimato em 11 de janeiro de 1890.**

	POTÊNCIAS ALIADAS	POTÊNCIAS CENTRAIS
População	238 milhões	120 milhões
Forças armadas	França..... 93 divisões	Alemanha..... 94 divisões
	Inglaterra..... 50 divisões	Império Austro-Húngaro..... 49 divisões
	Rússia..... 99 divisões	
Armamento	França..... 308 canhões 2 200 metralhadoras	Alemanha..... 548 canhões 2 450 metralhadoras
Aviação militar	França..... 150 aviões	Alemanha..... 174 aviões
	Inglaterra..... 66 aviões	
Marinha de guerra	França..... 51 navios	Alemanha..... 94 navios
	Inglaterra..... 182 navios	Imp. Austro-Húngaro... 11 navios

Documento A: Forças militares em Agosto de 1914.

3. Observe atentamente o documento A:

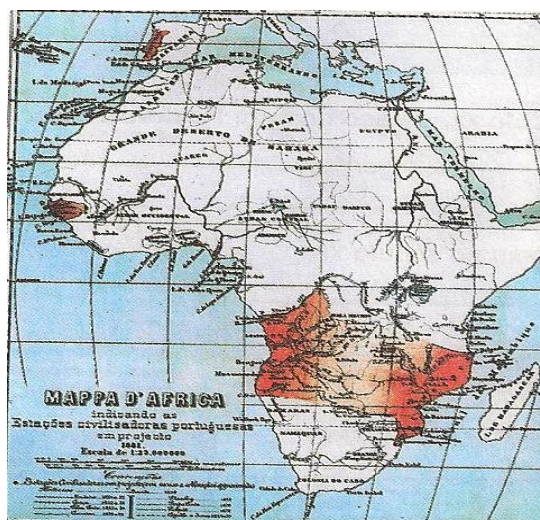
3.1. Refira o nome das duas alianças militares que se formaram antes da 1ª Guerra Mundial e os países que as constituíram.

3.2 Mencione uma rivalidade que explicou a corrida aos armamentos (visíveis no doc.A) que se verificou na Europa nos anos anteriores à Grande Guerra?

4. Observa o seguinte conjunto documental (doc. A a D)



Doc. A –Assassinato do Herdeiro Austro Húngaro



Doc B. Mapa cor-de-rosa

Doc. C Tratado de Versalhes

Doc. 5 Art. 42.º — É proibido à Alemanha construir fortificações [...] ao longo de uma linha situada até 50 km do Reno.

Art. 51.º — Os territórios da Alsácia-Lorena [...] são reintegrados na soberania francesa.

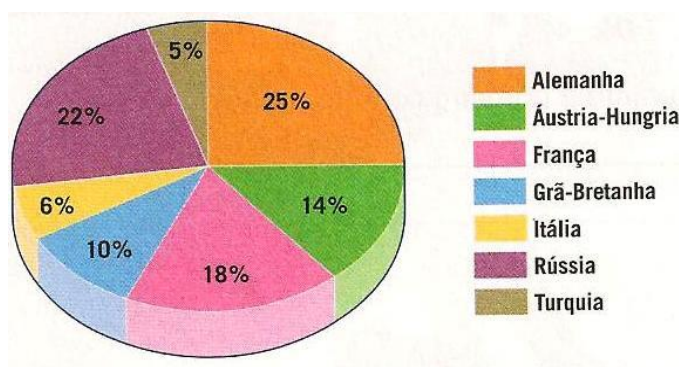
Art. 119.º — A Alemanha renuncia [...] a todos os seus direitos e títulos sobre as possessões ultramarinas [...].

Art. 231.º — Os governos aliados declaram, e a Alemanha reconhece, que ela e os seus aliados são responsáveis por todas as perdas e danos sofridos em consequência da guerra que lhes foi imposta pela opressão alemã.

Doc. D- Mapa da Europa – pós 1ª Guerra Mundial



- 4.1. **Ordene** cronologicamente os documentos A a D (do mais antigo para o mais recente). **6%**
 - 4.2. **Explique** o significado do doc. A.
 - 4.3. Indique **a data do início e do fim da 1ª Guerra Mundial**.
 - 4.4. Indique **a data do Armistício** da 1ª Guerra Mundial.
 - 4.5. **Mencione a partir do doc. C uma exigência** que o Tratado de Versalhes impôs à Alemanha.
 - 4.6. **Identifique, partindo do doc. D, duas alterações políticas** provocadas na Europa, após o fim da 1ª Guerra Mundial.
 - 4.7. **Nomeie o nome** da organização criada para garantir a paz, após o fim da 1ª Guerra Mundial.
 - 4.8. **Aponte um objetivo** dessa organização.
5. Observe o gráfico circular referente à Mortalidade na Primeira Guerra Mundial



5.1 A partir da análise do gráfico, refira duas alterações demográficas verificadas no pós-guerra.

5.2. **Faça corresponder, através das setas, os conceitos às definições.**

CONCEITOS	DEFINIÇÕES
Taylorismo 1 •	• A Grande empresa que controla o mercado de um produto.
Monopólio 2 •	• B Sistema de racionalização do trabalho que assenta no princípio de produção em série.
Estandardização 3 •	• C Desvalorização da moeda que decorre do aumento dos preços e da diminuição do poder de compra.
Inflação 4 •	• D Processo de fabrico em que os produtos são padronizados.
Fordismo 5 •	• E Sistema de organização do trabalho industrial que procura alcançar o máximo de rendimento.

BOM TRABALHO

Adaptado: Porto Editora / Areal Editores